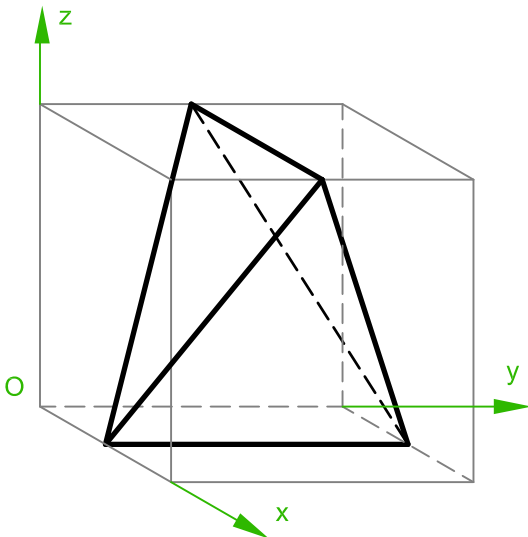





- Bestimme:
- Koordinaten der Eckpunkte
 - GR - AR - KR
 - Wahre Länge und 1. Neigungswinkel einer Kante in allgemeiner Lage auf zwei verschieden Arten



- Bestimme:
- Koordinaten der Eckpunkte
 - GR - AR - KR
 - Wahre Länge und 1. Neigungswinkel einer Kante in allgemeiner Lage auf zwei verschieden Arten

