













In den Bildern sind verschiedene künstlerische Objekte abgebildet. In jedem dieser Objekte ist eine krumme Fläche enthalten. Ordne die nachstehenden krummen Flächen den Objekten zu (Mehrfachnennungen möglich.)

Schiebfläche (SF), Drehfläche (DF), Freiformfläche (FF), Wendelfläche (WF), Regelfläche (RF), Zylinderfläche (ZF), Schraubfläche (SrF), Drehhyperboloid (DH), Hyperbolisches Paraboloid (HP), Kegelfläche (KF)

Datum:

Name: